

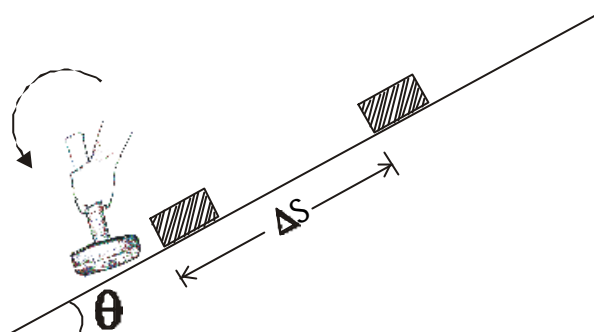
# G a b a r i t o – F í s i c a



**1ª Questão:** (2,0 pontos)

Um bloco de massa  $m = 0,20$  kg repousa sobre um plano inclinado de um ângulo  $\theta = 37^\circ$  em relação à horizontal. O bloco é subitamente impulsionado, paralelamente ao plano, por uma marretada, parando após percorrer uma distância  $\Delta S = 0,45$  m, a partir de sua posição inicial, como mostra a figura.

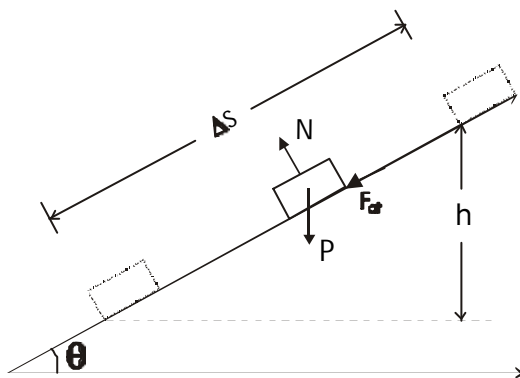
Dados:  
 $\cos 37^\circ = 0,80$   
 $\sin 37^\circ = 0,60$



Sabendo que o coeficiente de atrito cinético entre o bloco e o plano é  $\mu_c = 0,50$  e que a aceleração da gravidade é  $g = 10$  m/s<sup>2</sup>, determine:

- o trabalho realizado pela força de atrito durante o deslocamento  $\Delta S$ ;
- o trabalho realizado pela força peso do bloco durante o deslocamento  $\Delta S$ ;
- a velocidade do bloco, imediatamente após a marretada;
- o valor do impulso que a marreta imprime ao bloco.

**Cálculos e respostas:**



$$a) W_{\text{Fat}} = -F_{\text{at}} \cdot \Delta S \quad \therefore \quad W_{\text{Fat}} = -\mu_c N \Delta S \quad \therefore \quad W_{\text{Fat}} = -\mu_c mg \cos \theta \Delta S$$

$$W_{\text{Fat}} = -0,50 \times 0,20 \times 10 \times 0,80 \times 0,45 = 0,36 \text{ J} \quad W_{\text{Fat}} = -3,6 \times 10^{-1} \text{ J}$$

$$b) W_P = -mgh = -mg \Delta S \sin \theta = 0,20 \times 10 \times 0,45 \times 0,60$$

$$\therefore W_P = -0,54 \text{ J} \quad \therefore \quad W_P = -5,4 \times 10^{-1} \text{ J}$$

## G a b a r i t o - F í s i c a

### Cálculos e respostas:

$$c) \Delta E_c = W_P + W_{Fat} \quad \therefore \quad 0 - \frac{1}{2}mv^2 = W_P + W_{Fat}$$

$$v^2 = \frac{(3,6 + 5,4) \times 10^{-1} \times 2}{0,20} \quad \therefore \quad v^2 = 9 \quad \therefore \quad v = 3,0 \text{ m/s}$$

$$d) I = m \Delta v \quad \therefore \quad I = 0,20 (3,0 - 0) \quad \therefore \quad I = 0,60 \text{ kg m/s}$$

$$I = 6,0 \times 10^{-1} \text{ kg m/s}$$

## G a b a r i t o – F í s i c a



**2ª Questão:** (2,0 pontos)

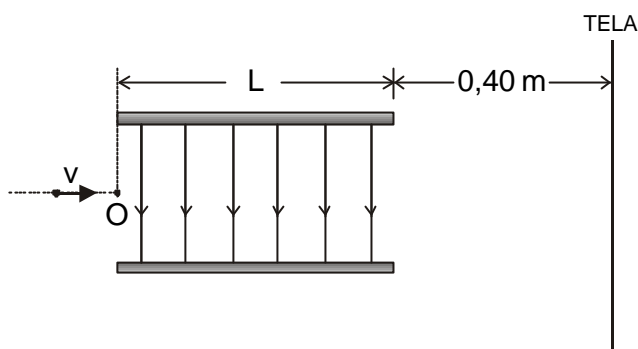
A figura representa duas placas metálicas paralelas de largura  $L = 1,0 \times 10^{-2}$  m, entre as quais é criado um campo elétrico uniforme, vertical, perpendicular às placas, dirigido para baixo e de módulo  $E = 1,0 \times 10^4 \frac{\text{V}}{\text{m}}$ .

Um elétron incide no ponto O, com velocidade horizontal  $v = 1,0 \times 10^7$  m/s, percorrendo a região entre as placas. Após emergir desta região, o elétron atingirá uma tela vertical situada à distância de 0,40 m das placas.

Dados:

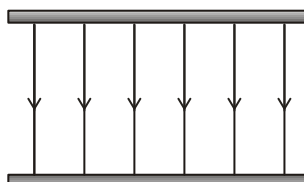
massa do elétron =  $9,1 \times 10^{-31}$  kg

carga do elétron =  $1,6 \times 10^{-19}$  C



Considerando desprezíveis o campo elétrico na região externa às placas e a ação gravitacional, calcule:

a) o módulo da força elétrica que atua no elétron entre as placas, representando, na figura a seguir, sua direção e sentido;



- b) o tempo que o elétron leva para emergir da região entre as placas;  
 c) o deslocamento vertical que o elétron sofre ao percorrer sua trajetória na região entre as placas;  
 d) as componentes horizontal e vertical da velocidade do elétron, no instante em que ele emerge da região entre as placas;  
 e) o deslocamento vertical que o elétron sofre no seu percurso desde o ponto O até atingir a tela.

### Cálculos e respostas:

a)  $F = qE = 1,6 \times 10^{-19} \times 1,0 \times 10^4 = 1,6 \times 10^{-15}$  N



A força  $\vec{F}$  é vertical e dirigida para cima, pois o campo elétrico é vertical e para baixo e a carga  $q$  é negativa.

b)  $t = \frac{L}{v_x} = \frac{1,0 \times 10^{-2}}{1,0 \times 10^7} = 1,0 \times 10^{-9}$  s

## G a b a r i t o - F í s i c a

**Cálculos e respostas:**

$$c) \Delta y = \frac{1}{2} at^2 = \frac{1}{2} \frac{F}{m} t^2 = \frac{1}{2} \cdot \frac{1,6 \times 10^{-15}}{9,1 \times 10^{-31}} (1,0 \times 10^{-9})^2 = 0,088 \times 10^{-2} = 8,8 \times 10^{-4} \text{ m}$$

$$d) v_x = 1,0 \times 10^7 \text{ m/s}$$

$$v_y = at = \frac{F}{m} t = \frac{1,6 \times 10^{-15}}{9,1 \times 10^{-31}} \times 1,0 \times 10^{-9} = 0,18 \times 10^7 = 1,8 \times 10^6 \text{ m/s}$$

$$e) t' = \frac{0,40}{v_x} = 4,0 \times 10^{-8} \text{ s}$$

$$y = \Delta y + v_y t' = 8,8 \times 10^{-4} + 1,8 \times 10^6 \times 4,0 \times 10^{-8}$$

$$y = 8,8 \times 10^{-4} + 7,2 \times 10^{-2} = 7,3 \times 10^{-2} \text{ m}$$

# G a b a r i t o – F í s i c a



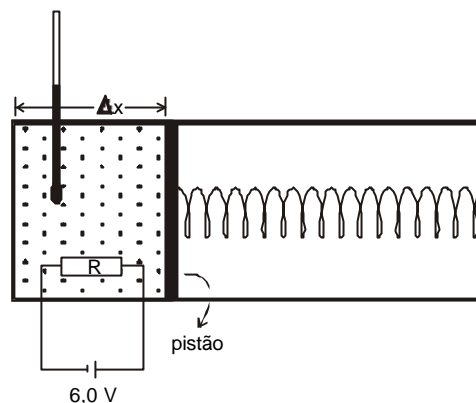
**3ª Questão:** (2,0 pontos)

A figura ilustra a secção reta de um recipiente isolante térmico cilíndrico cujo volume é regulado por um pistão que pode deslizar sem atrito. O pistão está preso à mola de constante elástica  $k = 1,0 \times 10^4 \text{ N/m}$ , que se encontra relaxada quando o pistão está encostado no fundo do recipiente.

Certa quantidade de um gás ideal é colocada no recipiente e, em equilíbrio térmico à temperatura  $T = 27^\circ\text{C}$ , a mola comprime-se de  $\Delta x = 0,50 \text{ m}$ .

Dado:

constante universal dos gases ( $R$ ) =  $8,31 \text{ J/mol K}$



- Calcule o número de mols do gás no recipiente.
- O gás é aquecido, durante 10 minutos, por meio de um resistor com  $R = 20 \Omega$ , ligado a uma fonte de tensão de  $6,0 \text{ V}$ . Calcule a quantidade de calor fornecida ao gás.

Durante o aquecimento, o gás se expande quase estaticamente e, ao final, no equilíbrio térmico, o pistão encontra-se em uma nova posição onde a mola está comprimida de  $\Delta x_1 = 0,55 \text{ m}$ .

Tendo em vista esta nova situação, calcule:

- a temperatura do gás;
- o trabalho mecânico realizado pelo gás na expansão de  $\Delta x$  para  $\Delta x_1$ ;
- a variação da energia interna do gás na expansão, considerando desprezível a capacidade térmica do sistema (recipiente e seus componentes).

## Cálculos e respostas:

$$\text{a) } PV = n R T \quad n = \frac{PV}{RT}$$

$$T = 27 + 273 = 300 \text{ K}$$

$$V = \Delta x \cdot S, \quad \text{onde } S = \text{área do pistão}$$

$$P = \frac{F}{S} \quad \text{mas } F = k \Delta x \quad \therefore P = k \frac{\Delta x}{S}$$

$$n = \frac{k \frac{\Delta x}{S} \cdot \Delta x \cdot S}{R \cdot T} = \frac{k(\Delta x)^2}{RT} \quad \therefore n = \frac{1,0 \times 10^4 \times (0,50)^2}{8,31 \times 300} = \frac{2500}{2493} \quad \therefore n \approx 1,0 \text{ mol}$$

## G a b a r i t o - F í s i c a

**Cálculos e respostas:**

$$\begin{aligned} \text{b) } R &= 20 \, \Omega & P &= \frac{V^2}{R} & \text{mas } \Delta Q &= E = P \cdot \Delta t \\ V &= 6,0 \, \text{V} \end{aligned}$$

$$\therefore \Delta Q = \frac{V^2}{R} \cdot \Delta t \Rightarrow \Delta Q = \frac{36}{20} \times 10 \cdot 60 = 1,1 \times 10^3 \, \text{J}$$

$$\text{c) } \frac{P_0 V_0}{T_0} = \frac{P_1 V_1}{T_1} \quad \therefore \quad \frac{k(\Delta x)^2}{T_0} = \frac{k(\Delta x_1)^2}{T_1}$$

$$\therefore T_1 = \frac{(0,55)^2}{(0,50)^2} \cdot 300 \approx 363 \, \text{K}$$

$$\text{d) } W = \frac{1}{2} k (\Delta x_1)^2 - \frac{1}{2} k (\Delta x)^2 \quad \therefore \quad W = \frac{1}{2} \cdot 1,0 \times 10^4 \left[ (0,55)^2 - (0,50)^2 \right]$$

$$\therefore W = \frac{1}{2} \cdot 10^4 \cdot 0,0525 \quad \therefore \quad W \approx 2,6 \times 10^2 \, \text{J}$$

$$\text{e) } \Delta U = \Delta Q - W \quad \therefore \quad \Delta U = 1,1 \times 10^3 - 2,6 \times 10^2 \quad \therefore \quad \Delta U = 8,4 \times 10^2 \, \text{J}$$

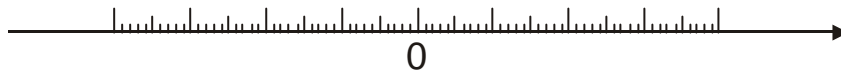
# G a b a r i t o – F í s i c a



**4ª Questão:** (2,0 pontos)

Uma lente telefoto consiste em um conjunto formado por uma lente convergente ( $L_1$ ), de distância focal  $f_1 = 3,5$  cm, colocada 2,0 cm à esquerda de uma lente divergente ( $L_2$ ), de distância focal  $f_2 = -1,8$  cm.

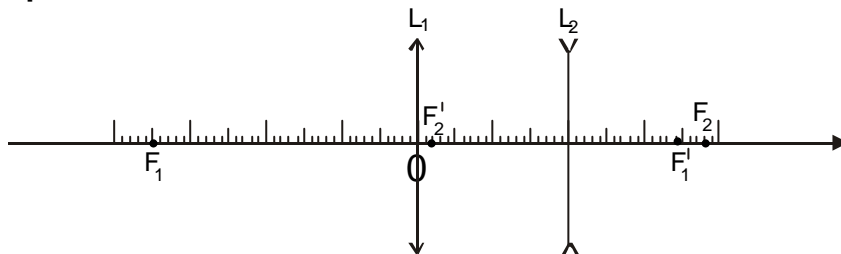
a) Na figura a seguir, que representa o eixo principal das lentes  $L_1$  e  $L_2$ , esboce um esquema da lente telefoto, considerando  $L_1$  e  $L_2$  perpendicularmente ao eixo e  $L_1$  sobre o ponto 0 (origem). Indique, também, a posição dos focos de cada lente, identificando cada um deles.



b) Determine a posição da imagem, em relação a  $L_2$ , de um objeto situado à esquerda da telefoto e infinitamente afastado.

**Cálculos e respostas:**

a)



$F_1$  – foco objeto de  $L_1$  ;  $F_2$  – foco objeto de  $L_2$

$F'_1$  – foco imagem de  $L_1$  ;  $F'_2$  – foco imagem de  $L_2$

b) a imagem de um objeto infinitamente afastado de  $L_1$ , teria sua posição no foco  $F'_1$  se  $L_2$  não existisse. Assim,  $F'_1$  funciona como objeto virtual para  $L_2$ ; usando a equação das lentes:

$$\frac{1}{f_2} = \frac{1}{P_2} + \frac{1}{P'_2} \quad \text{como: } f_2 = -1,8 \text{ cm e}$$

$P_2 = -1,5$  cm temos que

$$\frac{1}{P'_2} = \frac{1}{1,5} - \frac{1}{1,8} = \frac{2}{3} - \frac{10}{18} = \frac{12-10}{18} \therefore$$

$$\frac{1}{P'_2} = \frac{2}{18} \Rightarrow P'_2 = \frac{18}{2} = 9,0 \text{ cm}$$

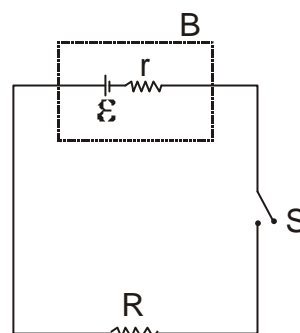
# G a b a r i t o – F í s i c a

**5ª Questão:** (2,0 pontos)



Uma bateria B, de força eletromotriz  $\mathcal{E} = 12 \text{ V}$  e resistência interna  $r$  desconhecida, é conectada a um circuito elétrico que contém um resistor de resistência  $R = 3,5 \Omega$  e uma chave S.

Dados:  
 calor específico da água =  $1,0 \text{ cal/g } ^\circ\text{C}$   
 $1,0 \text{ J} = 0,24 \text{ cal}$



Com o resistor imerso em 240 g de água, a chave S é ligada, permitindo que o circuito seja atravessado por uma corrente elétrica de intensidade igual a 3,0 A.

Considerando que não há dissipação de energia nos fios de ligação e que a energia liberada no resistor é utilizada integralmente para aquecer a água, determine:

- a resistência interna da bateria;
- a d.d.p. nos terminais da bateria;
- a potência útil e a eficiência do gerador;
- a energia absorvida pela água durante os 10 min que sucedem à ligação de S;
- a variação da temperatura da água 10 min após S ser ligada.

### Cálculos e respostas:

a)  $V$  – d.d.p nos terminais da bateria  $V = \mathcal{E} - ir$

$V'$  – d.d.p nos terminais do resistor  $V' = iR$

Como  $V = V' \Rightarrow \mathcal{E} - ir = iR \quad \therefore \quad ir = \mathcal{E} - iR \quad \therefore \quad r = \frac{\mathcal{E}}{i} - R$

$\therefore r = \frac{12}{3,0} - 3,5 \quad \therefore \quad r = 0,50 \Omega$

b)  $V = \mathcal{E} - ir \quad \therefore \quad V = 12 - 3,0 \cdot 0,50 \quad \therefore \quad V = 10,5 \text{ V} \quad \therefore \quad V \approx 11 \text{ V}$



## G a b a r i t o - F í s i c a

**Cálculos e respostas:**

**ou**

$$V = V' = iR = 3,0 \times 3,5 = 10,5 \quad \therefore \quad V \approx 11V$$

$$c) P_u = \mathcal{E} \cdot i - r \cdot i^2 \quad \therefore \quad P_u = 12 \cdot 3,0 - 0,5 \times 9,0 \quad \therefore \quad P_u = 36 - 4,5$$

$$P_u = 31,5 \text{ W} \quad \therefore \quad P_u \approx 32 \text{ W}$$

**ou**

$$P_u = Ri^2 \quad \therefore \quad P_u = 3,5 \times 9,0 \quad \therefore \quad P_u = 31,5 \quad \therefore \quad P_u \approx 32 \text{ W}$$

$$\eta = \frac{P_u}{P_T} = e \quad P_T = \mathcal{E}i = 36W$$

$$\therefore \quad \eta \approx 88\%$$

$$d) E = P_u \Delta t \quad \therefore \quad E = 31,5 \times 10 \times 60 = 18.900 \quad E \approx 1,9 \times 10^4 \text{ J}$$

$$e) E = \Delta Q = mc\Delta T \quad \Delta T = \frac{E}{mc} \quad \therefore \quad \Delta T = \frac{18.900 \times 0,24}{240}$$

$$\Delta T \approx 19^\circ\text{C}$$