



**REINGRESSO E
MUDANÇA DE CURSO**

2018

GEOGRAFIA

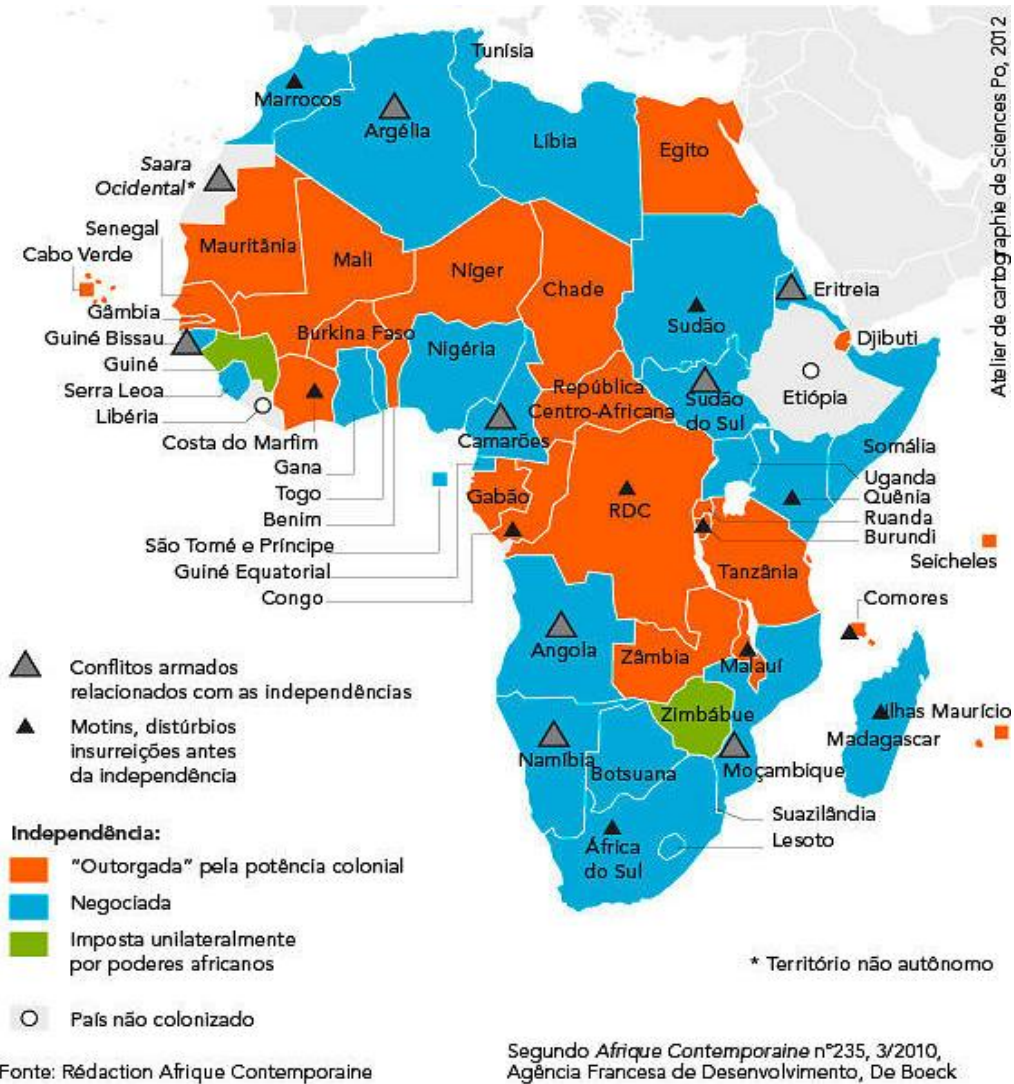
CADERNO DE QUESTÕES

INSTRUÇÕES AO CANDIDATO

- Você deverá ter recebido o Caderno com a Proposta de Redação, a Folha de Redação, dois Cadernos de Questões e o Cartão de Respostas com o seu nome e o número de inscrição e modalidade de ingresso. Confira se seus dados no Cartão de Respostas estão corretos e, em caso afirmativo, assine-o e leia atentamente as instruções para seu preenchimento.
- Verifique se este Caderno contém enunciadas 20 (vinte) questões de múltipla escolha de **GEOGRAFIA** e se as questões estão legíveis, caso contrário **informe imediatamente ao fiscal**.
- Cada questão proposta apresenta quatro opções de resposta, sendo apenas uma delas a correta. A questão que tiver sem opção assinalada receberá pontuação zero, assim como a que apresentar mais de uma opção assinalada, mesmo que dentre elas se encontre a correta.
- Não é permitido usar qualquer tipo de aparelho que permita intercomunicação, nem material que sirva para consulta.
- O tempo disponível para a realização de todas as provas, incluindo o preenchimento do Cartão de Respostas é, no mínimo, de **uma hora e trinta minutos** e, no máximo, de **quatro horas**.
- Para escrever a Redação e preencher o Cartão de Respostas, use, exclusivamente, caneta esferográfica de corpo transparente de ponta média com tinta azul ou preta (preferencialmente, com tinta azul).
- Certifique-se de ter assinado a lista de presença.
- Quando terminar, entregue ao fiscal a Folha de Redação, que será desidentificada na sua presença, o Cartão de Respostas, que poderá ser invalidado se você não o assinar. Se você terminar as provas antes de três horas do início das mesmas, entregue também ao fiscal os Cadernos de Questões e o Caderno de Redação.

AGUARDE O AVISO PARA INICIAR SUAS PROVAS

01 Tipologia das independências africanas

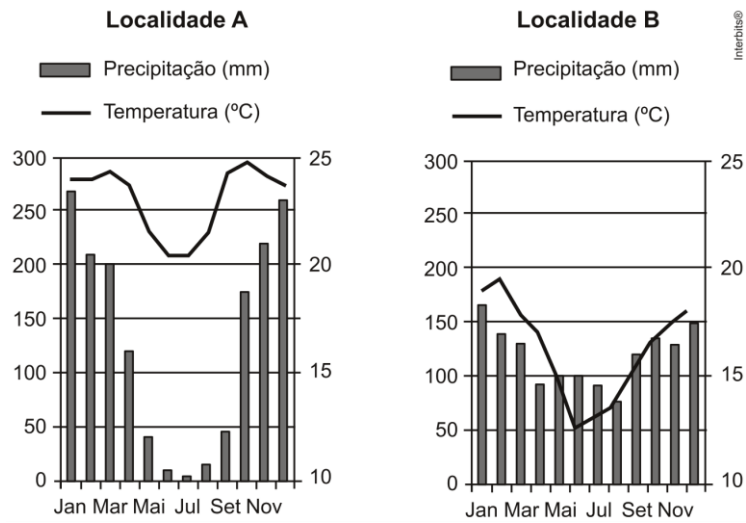


Disponível em: http://cartotheque.sciences-po.fr/media/Tipologia_das_independencias_africanas/1045/

Os conflitos na África não são elementos novos na história do continente. Suas origens podem ser atribuídas ao processo de colonização e ao imperialismo europeu do século XIX, que impôs fronteiras artificiais, com a partilha do continente, na Conferência de

- (A) Berlim.
- (B) Viena.
- (C) Genebra.
- (D) Versalhes.

02 Analise os climogramas a seguir:



Os climogramas das localidades **A** e **B** representam, respectivamente, os seguintes tipos climáticos:

- (A) Equatorial e Subtropical
- (B) Tropical Típico e Subtropical
- (C) Subtropical e Tropical Semiárido
- (D) Tropical Típico e Equatorial

03 **Bacias Hidrográficas Brasileiras**



Fonte: IBGE

O Brasil possui uma das mais extensas e diversificadas redes fluviais do mundo, dividida em macrobacias hidrográficas, como apresentado na figura.

Do total das macrobacias hidrográficas, nove contêm nascentes no seguinte bioma:

- (A) Cerrado.
- (B) Caatinga.
- (C) Restinga.
- (D) Mata Atlântica.

04

Trump Derruba Medidas de Proteção Ambiental Criadas por Obama

Usinas de carvão não terão mais que controlar emissão de gases poluentes. Governo diz que objetivo é “garantir independência energética do país”.

Disponível em: <http://g1.globo.com/jornal-nacional/noticia/2017/03/trump-derruba-medidas-de-protecao-ambiental-criadas-por-obama.html>

Donald Trump liberou a mineração do carvão em terras que pertencem ao governo federal e abriu caminho para que as usinas de geração de energia movidas a carvão não tenham mais que controlar a poluição que causam. A queima do carvão mineral, em grandes quantidades, pode aumentar o volume do óxido de enxofre na atmosfera.

Essa queima de carvão e esse aumento de óxido provocam o fenômeno denominado:

- (A) Inversão térmica
- (B) Ilha de calor
- (C) Formação do ozônio
- (D) Chuva ácida

05



Disponível em: <http://www.ferreoclube.com.br/2016/03/22/mrs-logistica-sa/>

A MRS S.A. – Malha Regional Sudeste Logística S.A. – é uma Companhia Ferroviária dedicada ao transporte de cargas criada em agosto de 1996. A logística apresentada pelo mapa acima indica áreas produtoras e o escoamento da produção do seguinte produto:

- (A) Petróleo
- (B) Soja
- (C) Minério de ferro
- (D) Carne bovina

06 Entende-se que o conceito de sociedade pós-industrial adquire significado quando se comparam os seus atributos aos das sociedades industrial e pré-industrial. A sociedade pré-industrial é do tipo agrário, estruturada em moldes tradicionais, onde o poder está em regra associado à propriedade da terra. A sociedade industrial apoia-se na produção de bens industriais e o poder nela instituído pertence aos capitalistas.

Fonte: Bertero, José Flávio. SOBRE A SOCIEDADE PÓS-INDUSTRIAL.
Disponível: <http://www.unicamp.br/cemarx/ANAIS%20IV%20COLOQUIO/comunica%E7%F5es/GT3/qt3m2c4.pdf> acesso 29 de novembro de 2017.

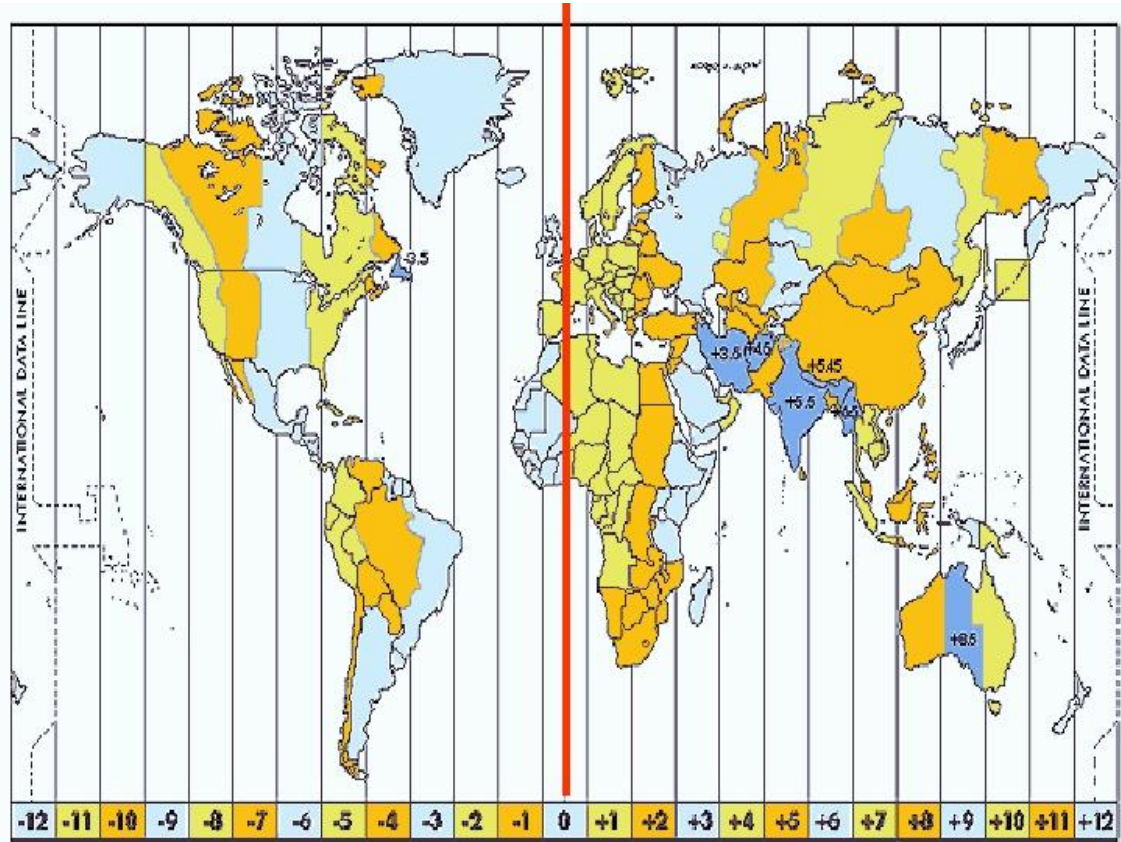
A sociedade pós-industrial, cuja fonte do poder reside na informação, tem por base os serviços. Nesse tipo de sociedade verifica-se notória retração do setor

- (A) quaternário moderno.
- (B) secundário clássico.
- (C) terciário inferior.
- (D) terciário superior.

07 Volkswagen-Man, com fábrica de caminhões, e a Nissan automóveis, em Resende, PSA Peugeot Citroën, em Porto Real, e Jaguar Land Rover, em Itatiaia, formam, no Vale do Paraíba Fluminense, um polo metal mecânico automobilístico. Essa região foi selecionada por indústrias automobilísticas, nos últimos 20 anos, por reunir um privilegiado conjunto de fatores de localização industrial, dos quais se identifica como o mais destacado:

- (A) a abundância de tecnopolos e Science Parks automobilísticos criados pela disponibilidade de funcionários altamente qualificados.
- (B) o escoamento facilitado e distribuição da produção próxima a vias de acesso, como estradas, portos, ferrovias e acesso à energia.
- (C) a carga tributária elevada, impostos, taxas e cobranças fiscais municipais e estaduais geradores de infraestrutura e alta qualidade de vida.
- (D) a presença de sindicatos fortes e rígidas normas ambientais impeditivas à produção de qualquer tipo efluente industrial.

08 Nas eleições de 2014, a divulgação do resultado final atrasou devido ao horário de verão. Segundo o Tribunal Superior Eleitoral – TSE o atraso ocorreu devido à votação no Acre, estado do Norte que tem uma diferença de três horas em relação ao horário de Brasília. Em 2018, o problema deverá ocorrer novamente enquanto vigorar o horário de verão.



Desconsiderando a especificidade sazonal do período das eleições, o estado do Acre se localiza no seguinte fuso horário:

- (A) - 4GTM
- (B) - 6GTM
- (C) - 5GTM
- (D) - 3GTM

09 Analise a charge a seguir:



Disponível em: <http://www.voxeurop.eu/pt/content/cartoon/3185801-cada-um-no-que-e-seu>
31 dezembro 2012 – LE VIF/L'EXPRESS

A charge mostra que a Europa unificada tem apresentado inúmeros exemplos de regionalismos e movimentos separatistas. A saída do Reino Unido da União Europeia provocou descontentamentos e ameaças separatistas na Grã-Bretanha.

Nesse contexto geopolítico específico, o governo da primeira-ministra Theresa May rechaça a ideia de um novo referendo que decidiria a independência da

- (A) Catalunha.
- (B) Irlanda.
- (C) Escócia.
- (D) Galícia.

10 Observe a imagem a seguir:



Disponível em: <https://pixabay.com/pt/terraços-de-arroz-campos-de-arroz-276017/>
acesso dia 02 de dezembro de 2017.

O distrito rural vietnamita de *Mù Cang Chải* se destaca na produção de arroz em encostas íngremes terraceadas, como mostrado na imagem.

A técnica de plantio empregada nessa produção agrícola tem por finalidade

- (A) aumentar o escoamento superficial das chuvas e facilitar o cultivo do arroz nas encostas.
- (B) reduzir a erosão fluvial e aumentar a produtividade com utilização de agroquímicos.
- (C) dificultar a erosão pluvial superficial e reter água para o desenvolvimento da rizicultura.
- (D) ampliar a área cultivada e facilitar o escoamento dos nutrientes para o topo das encostas.

11

Cooperativa de quebradeiras vende óleo de babaçu para o mundo todo

A coleta e a quebra do babaçu é uma tarefa tradicionalmente executada por mulheres, que saem juntas para colher os frutos e depois fazem a quebra de modo artesanal, com uma pedra e uma espécie de machadinha.

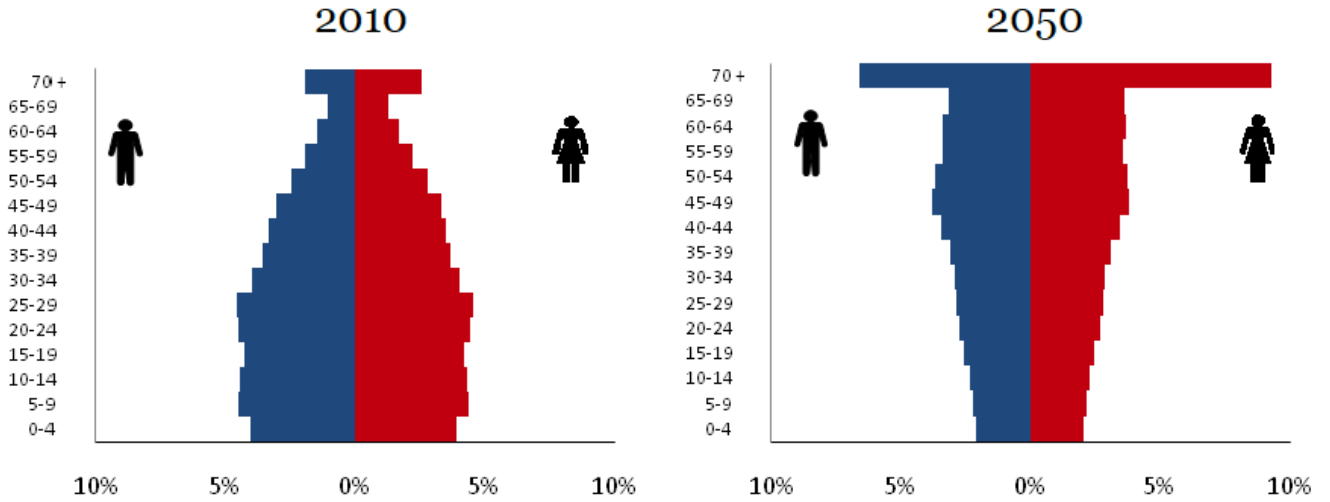
Disponível em: <http://www1.folha.uol.com.br/mercado/2017/10/1924407-cooperativa-de-quebradeiras-vende-oleo-de-babacu-para-o-mundo-todo.shtml>.

Dentro do coco de babaçu estão amêndoas das quais se extrai um tipo de óleo utilizado exclusivamente pelas indústrias

- (A) alimentícia e têxtil.
- (B) cosmética e de higiene.
- (C) petroquímica e alimentícia.
- (D) petroquímica e siderúrgica.

12

Estrutura Etária do Brasil



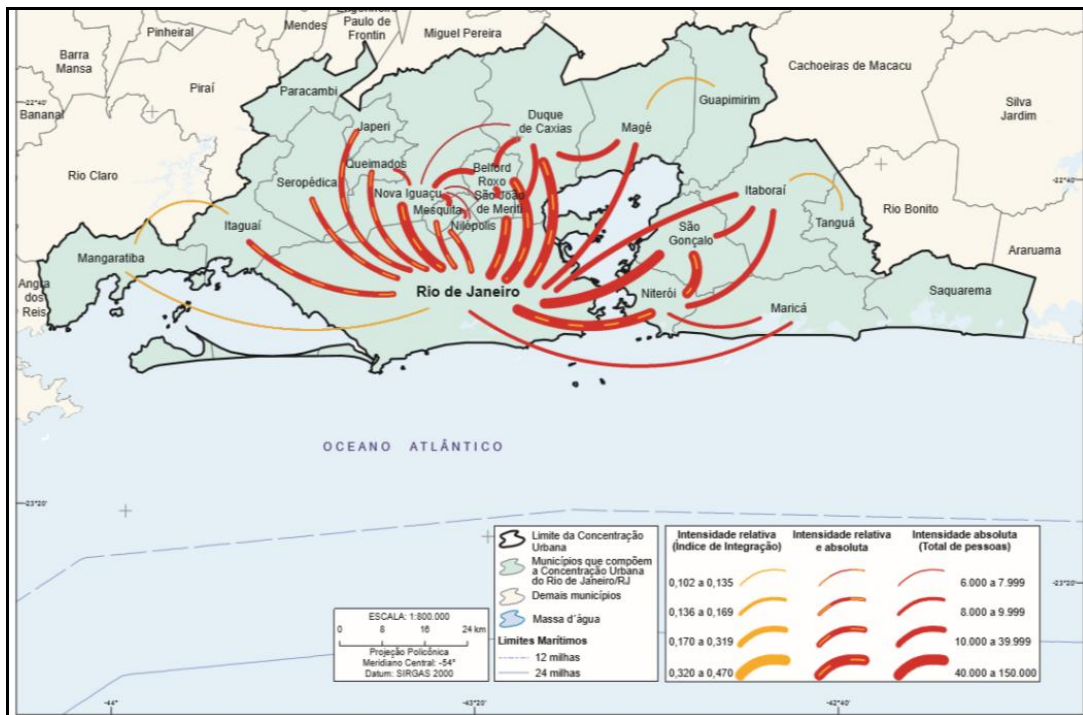
Disponível em: http://siteresources.worldbank.org/BRAZILINPOREXTN/Resources/3817166-1302102548192/Envelhecendo_Brasil_Sumario_Executivo.pdf.

Essa mudança significativa no perfil etário da população brasileira pressionará diretamente instituições das seguintes áreas:

- (A) Sistema de saúde e educação básica
- (B) Segurança pública e previdência social
- (C) Previdência social e educação básica
- (D) Previdência social e sistema de saúde

13 Analise o mapa a seguir:

Intensidade dos Deslocamentos para Trabalho e Estudo no Rio de Janeiro



Disponível em: <https://biblioteca.ibge.gov.br/visualizacao/livros/liv99700.pdf>

No mapa, as linhas vermelhas e as alaranjadas representam a intensidade dos deslocamentos para trabalho e estudo na concentração urbana do Rio de Janeiro. No Estado do Rio de Janeiro, os principais fluxos de deslocamento diário de moradores são entre as cidades de Rio de Janeiro e de Duque de Caxias (119 mil pessoas), além de Niterói e São Gonçalo (120 mil). A região metropolitana fluminense concentra atualmente 21 municípios e 85,7% de sua população.

O tipo de fluxo populacional registrado no mapa anterior é denominado:

- (A) Transumância
- (B) Migração de retorno
- (C) Movimento pendular
- (D) Migração sazonal

14

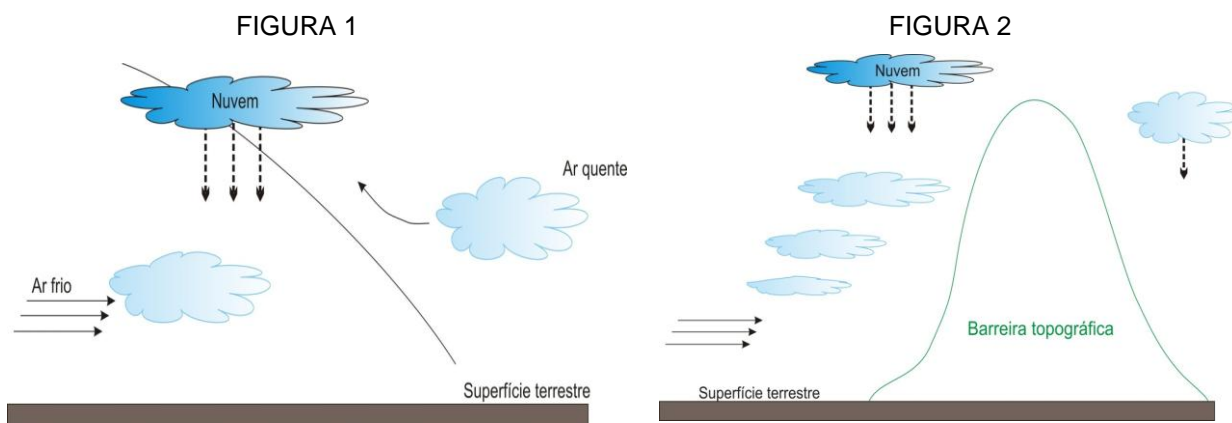
Reforma trabalhista espanhola faz cinco anos: assim é a geração de jovens desencantados que ela deixou
 Brasil usa reforma espanhola como modelo, mas mudança na legislação criou empregos precários. A reforma trabalhista espanhola prometia mais empregos o que, de fato, ocorreu. Entretanto, eles são mais precários.

Disponível em: https://brasil.elpais.com/brasil/2017/06/16/economia/1497635788_119553.html?rel=mas.

A principal preocupação das centrais sindicais e dos trabalhadores brasileiros quanto à reforma trabalhista, ora em debate no meio político, refere-se ao provável crescimento do trabalho

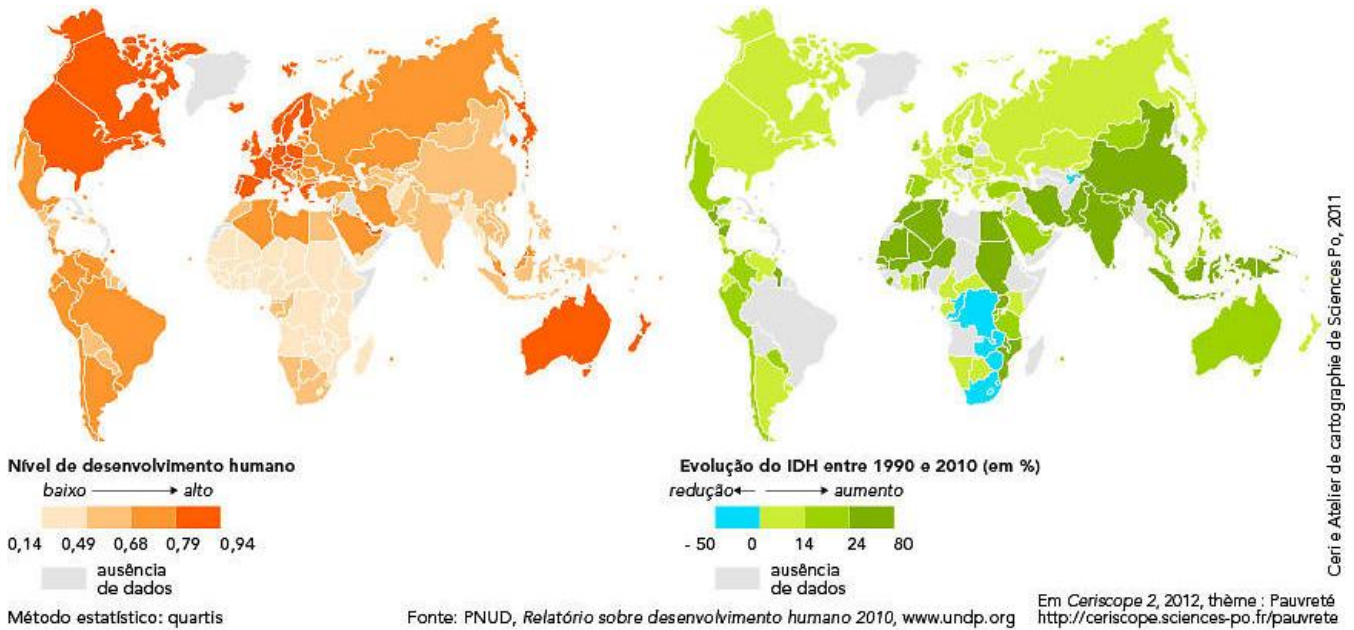
- (A) especializado.
- (B) permanente.
- (C) temporário.
- (D) qualificado.

15 Analise as figuras a seguir:



As figuras representam, respectivamente, as chuvas:

- (A) Orográficas e frontais
- (B) Frontais e orográficas
- (C) Convectivas e orográficas
- (D) Orográficas e de relevo



Disponível em: http://cartotheque.sciencespo.fr/media/Indice_de_desenvolvimento_humano_IDH_2010/418/

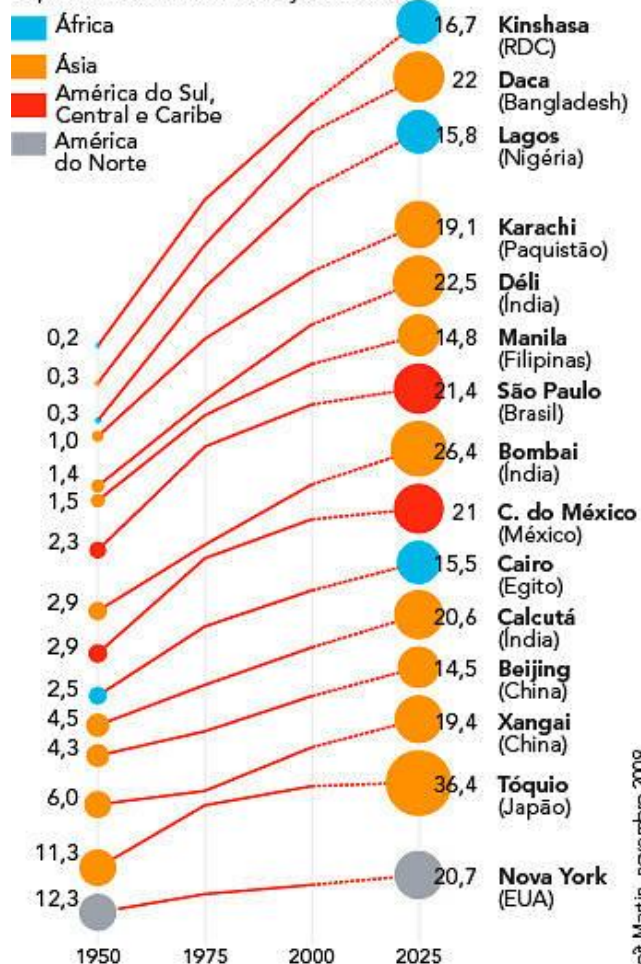
O IDH (Índice de Desenvolvimento Humano) é uma medida usada para avaliar avanços nos três itens considerados básicos que são:

- (A) mortalidade infantil, renda *per capita* e expectativa de vida.
- (B) expectativa de vida, renda *per capita* e taxa de analfabetismo.
- (C) taxa de alfabetização, esperança de vida e renda *per capita*.
- (D) mortalidade infantil, expectativa de vida e concentração de renda.

Evolução demográfica das metrópoles, 1950-2025

Evolução e previsões da população das 15 primeiras metrópoles em 2025 (em milhões de habitantes)

Para o período 2005-2025, foram mantidas as previsões médias das Nações Unidas



Fonte: ONU, Divisão de População, *World Urbanization Prospects: The 2007 Revision*, www.un.org

Segundo Marie-Françoise DURAND, Philippe COPINSCHI, Benoît MARTIN, Patrice MITRANO, Delphine PLACIDI-FRÔT, *Atlas de la mondialisation, dossier spécial Russie*, Paris, Presses de Sciences Po, 2010

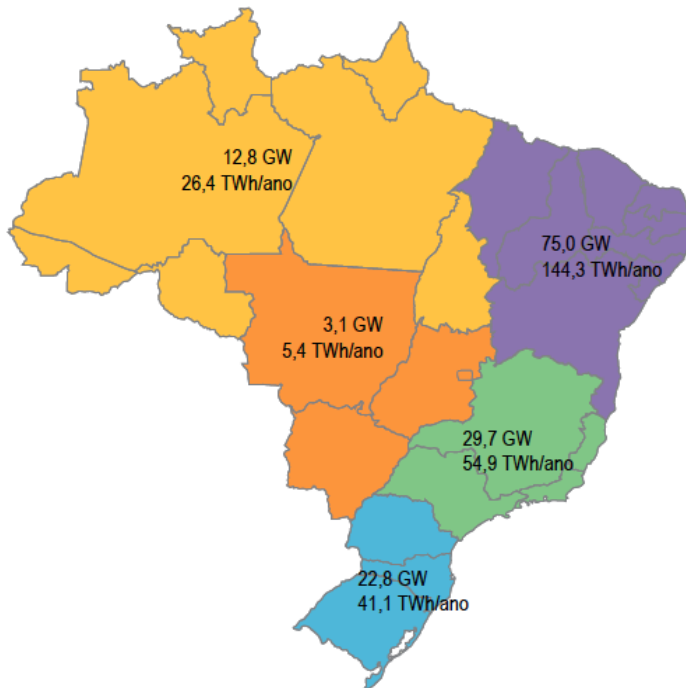
Benoît Martin, novembro 2008

Disponível em: http://cartotheque.sciences-po.fr/media/Evolucao_demografica_das_metrosoles_1950-2025/320/

A projeção de crescimento populacional das metrópoles com mais de 10 milhões de habitantes mostra o predomínio de cidades localizadas na África e Ásia.

Na literatura geográfica internacional, essas aglomerações urbanas são classificadas como:

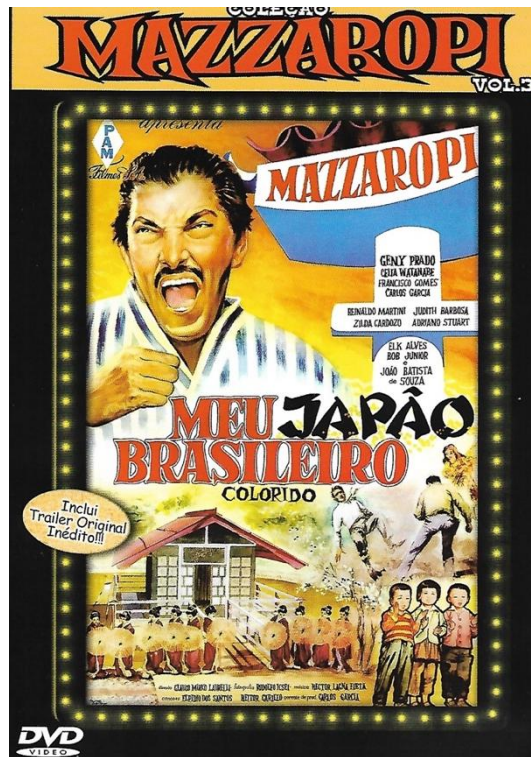
- (A) Metrôpoles globais
- (B) Megalópoles
- (C) Macrometrôpoles
- (D) Megacidades



Fonte: Atlas de energia elétrica do Brasil / Agência Nacional de Energia Elétrica. Brasília : Aneel, 2008. Disponível em: <http://www2.aneel.gov.br/arquivos/pdf/atlas3ed.pdf>.

No mapa acima, registra-se o potencial de energia das macrorregiões brasileiras, produzida a partir da utilização do

- (A) vento.
- (B) petróleo.
- (C) carvão mineral.
- (D) gás natural.



Em uma comunidade Nipo-brasileira, o caipira Fofuca luta contra um comerciante desonesto que compra seu arroz, de forma a explorá-lo, e também aos imigrantes japoneses que moram na região. Após pensar muito nas mãos do “*Seu Leão*” o caipira resolve se unir aos japoneses e fundar uma cooperativa. O filme de 1965 retrata um problema muito comum até hoje no meio rural brasileiro: a reduzida rentabilidade e a vulnerabilidade social do trabalhador do campo. A figura “*Seu Leão*” descrita no texto é identificada como:

- (A) Empreiteiro
- (B) Grileiro
- (C) Atravessador
- (D) Arrendatário



Disponível em: <https://www.vix.com/pt/ciencia/543997/rios-voadores-ha-um-volume-enorme-de-agua-sobre-nossas-cabecas-de-onde-vem>.

Os rios voadores são fluxos aéreos sob a forma de vapor d'água que vêm de áreas tropicais do Oceano Atlântico e são alimentados pela umidade da Região Amazônica. Essa umidade é responsável pelas chuvas em grande parte da América do Sul. O desvio dessa umidade para o Cone Sul do continente só é possível devido à presença

- (A) da Planície Amazônica.
- (B) da Planície do Pantanal.
- (C) do Planalto Central.
- (D) da Cordilheira dos Andes.

